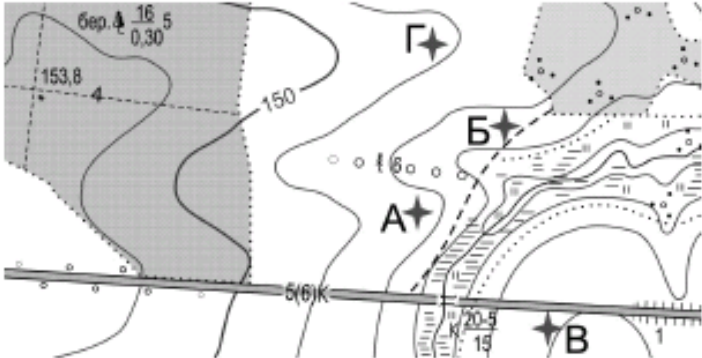



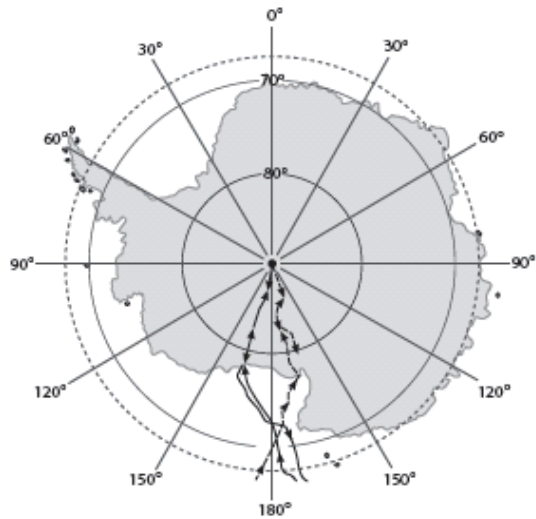
**Зовнішнє незалежне оцінювання 2011 року
Відповіді на завдання тесту з географії**

№ з/п	Умова завдання та правильна відповідь
1	Земна вісь – це уявна пряма лінія, що проходить через центр Землі та географічні полюси.
2	Можна здійснити навколосвітню подорож, дрейфуючи за течією Західних Вітрів.
3	<p>Найбільшу абсолютну висоту має точка, позначена на фрагменті топографічної карти буквою</p>  <p>Суцільні горизонталі проведені через 2,5 метри</p> <p>Г</p>
4	Унаслідок метаморфізму відбувається перетворення граніту в гнейс.

5	<p>Який прилад використовують для вимірювання відносної вологості повітря?</p> 
6	<p>У якій природній зоні поширені перезволожені ґрунти з дуже сповільненим процесом розкладання органічних решток, малопотужним гумусовим горизонтом, що переходить у глейовий горизонт сіруватого кольору?</p> <p>тундра</p>
7	<p>Користуючись фрагментом карти, визначте країну, в порт якої прибуде корабель, що знаходиться в точці з координатами 30° пн.ш., 45° зх.д. і починає рухатися на південь, не змінюючи курсу.</p> <p>Бразилія</p>
8	<p>Жителі Сахари кажуть, що «каміння ночами кричить». Гучний різкий тріск у пустелі є проявом</p> <p>фізичного вивітрювання.</p>
9	<p>Темношкірі «лісові люди» з тонкими губами, дуже широким носом і середнім зростом 140-145см - це</p> <p>пігмеї екваторіальної Африки.</p>
10	<p>Чому в південно-західній частині Північної Америки річкова мережа розвинута слабо, а на південному сході вона густа?</p> <p>в цих регіонах неоднакові кліматичні умови</p>

11

На картосхемі позначено маршрути експедицій



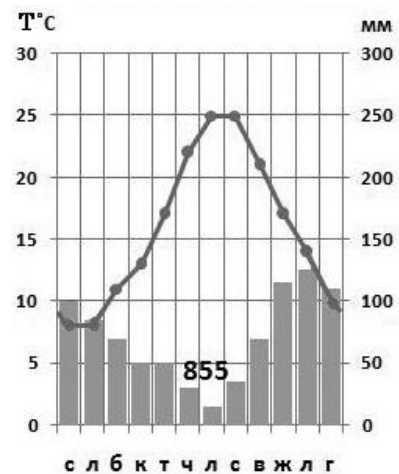
Р. Амундсена, Р. Скотта.

12

У рифтових зонах серединно-океанічних хребтів відбувається
розходження літосферних плит.

13

Кліматичні умови якого регіону Євразії відображено на кліматодіаграмі?



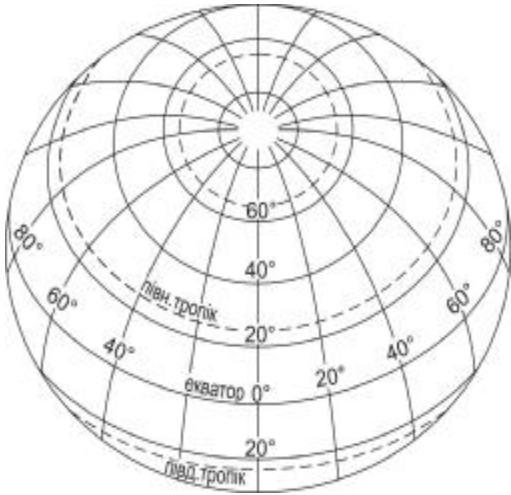
Середземномор'я

14

Для рельєфу Євразії характерною особливістю є те, що **найвищі гори належать до Альпійсько-Гімалайського складчастого поясу.**

15

На карті, яку створює картограф у проекції, яку зображено на рисунку, не буде позначено



Австралії.

16

Як вплинуло на формування ландшафтів центральної частини Австралії близьке до поверхні залягання підземних вод?
значні площі пустель вкривають чагарники з низькорослих евкаліптів і акацій

17

Який населений пункт на території України знаходиться найближче до Гринвіцького меридіана?

м. Чоп


18

Для якої рівнини в Україні характерні абсолютні висоти до 120-150 м, загальний похил на південь, широкі річкові долини, балки, поди?

Причорноморської низовини

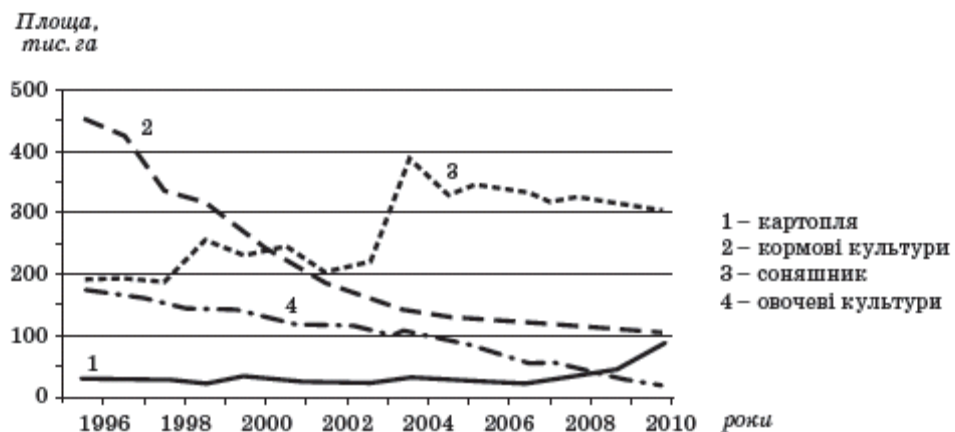
19	<p>Якщо метеорологічна служба в січні повідомляє про переміщення на територію України антициклону з центральних районів Євразії, то слід очікувати</p> <p>морозної сонячної погоди.</p>
20	<p>Чому в межах Українського щита сконцентровані родовища залізних руд з високим вмістом металу?</p> <p>близько до поверхні залягають докембрійські магматичні та метаморфічні породи</p>
21	<p>На річці, у руслі якої є ділянка з порогами, планують спорудити ГЕС. У якій із позначених на схемі буквою точок доцільно збудувати греблю гідроелектростанції зі шлюзами, щоб затопити пороги і зробити судноплавство наскрізним?</p> <p>В</p>
22	<p>Який компонент природного комплексу дає можливість з високою імовірністю визначити тип ґрунту на цілинній ділянці, не закладаючи ґрунтовий розріз?</p> <p>злакове різнотрав'я з переважанням ковили</p>

23	<p>У якому заповіднику збережено унікальне поєднання ландшафтів грабово-дубових лісів, лучних степів, заплавних островів?</p> <p>Канівському</p>
24	<p>Субурбанізація – це</p> <p>прискорений розвиток приміських зон великих міст.</p>
25	<p>Чим вища інтенсивність кольору на картограмі, тим більшим в областях України є значення</p>  <p>показника загальної густоти населення (осіб/км²).</p>
26	<p>Який чинник визначив спеціалізацію Запоріжжя як центру кольорової металургії?</p> <p>потужні електростанції</p>
27	<p>У якому економічному районі України основними забруднювачами повітря є Зміївська ТЕС, ВАТ “Шебелинкагазпром”, ВАТ «Сумхімпром»?</p> <p>Північно-Східному</p>

28	<p>У Донецькому економічному районі з високою концентрацією підприємств важкої промисловості розміщено текстильні та швейні фабрики, щоб</p> <p>створити додаткові робочі місця для жінок.</p>
29	<p>До якої форми міжнародних економічних зв'язків належить створення іноземною компанією власного виробництва на території України?</p> <p>іноземні інвестиції</p>
30	<p>На картосхемі позначено центри</p>  <p>авіаракетобудування.</p>
31	<p>Рапани – молюски, які потрапили з Японського моря в Чорне, прикріпившись до днища морських суден. Який вид регулярних перевезень сприяв міграції рапанів із Чорного моря на північ Азовського моря?</p> <p>залізної руди з Керчі до Маріуполя</p>

32

Проаналізуйте графіки, що характеризують зміну посівних площ сільськогосподарських культур однієї з областей України. Яка крива відображає зміни у структурі посівів, спричинені скороченням поголів'я великої рогатої худоби в цій області?



2

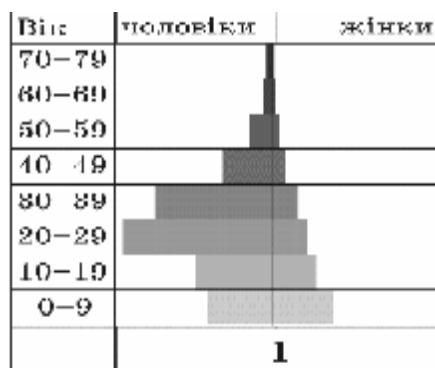
33

Спеціалізація сільського господарства у Вінницькій області обумовила концентрацію на її території зорієнтованих на сировину

цукрових і спиртових заводів.

34

Проаналізуйте статеву-вікову піраміду, що характеризує населення однієї з нафтовидобувних країн Перської затоки, та визначте чинник, який обумовив співвідношення чоловіків і жінок у віковій групі від 20 до 39 років.



імміграція чоловічої робочої сили

35

До кількісних змін на політичній карті світу відноситься

розпад Чехословаччини на Чехію і Словаччину.

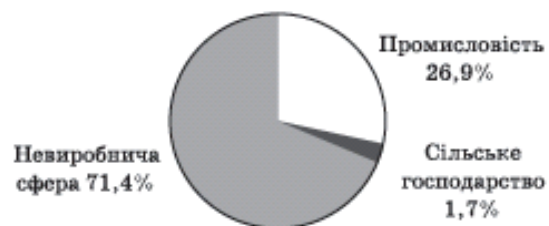
36

Укажіть основну причину сповільнення темпів приросту енергоспоживання у світі.

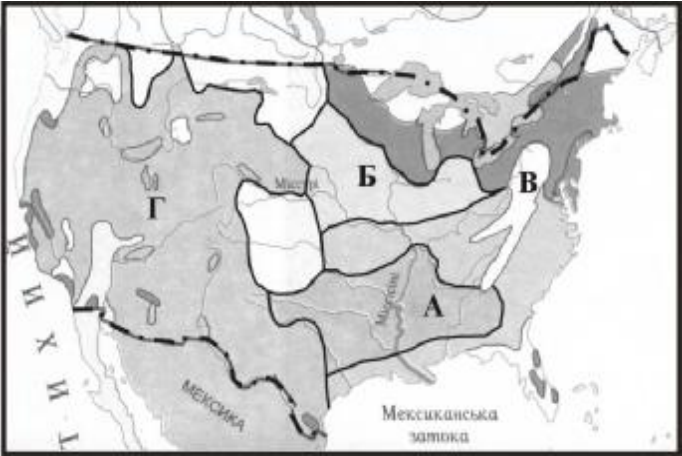
впровадження енергозберігаючих технологій

37

До якого типу належить країна, галузеву структуру ВВП якої відображено на діаграмі?



країни розвинутої економіки

38	<p>Які товари переважають у структурі експорту з Білорусі до України?</p> <p>продукція легкої і харчової промисловості</p>
39	<p>Яка країна Латинської Америки має великі запаси селітри, залізних і мідних руд, виплавляє та експортує найбільше в світі чорної міді?</p> <p>Чилі</p>
40	<p>Район пасовищного тваринництва та оазисного (зрошеного) землеробства США на картосхемі позначено буквою</p>  <p>Г</p>
41	<p>Друзі запланували зустріти Новий рік на пляжі у тій країні, де температура морської води і повітря перевищуватиме +25°C, тому вибрали</p> <p>Індонезію.</p>

42

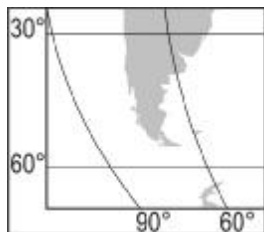
З якою країною Єгипет узгоджує обсяги споживання води річки Ніл?



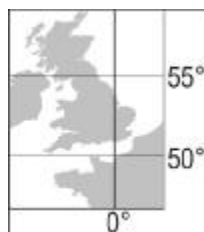
Судан

43

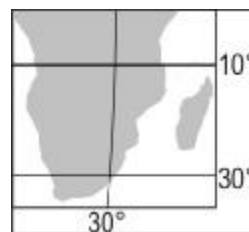
Установіть відповідність між картографічними зображеннями проток та їхніми географічними назвами.



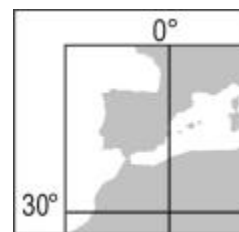
1



2



3



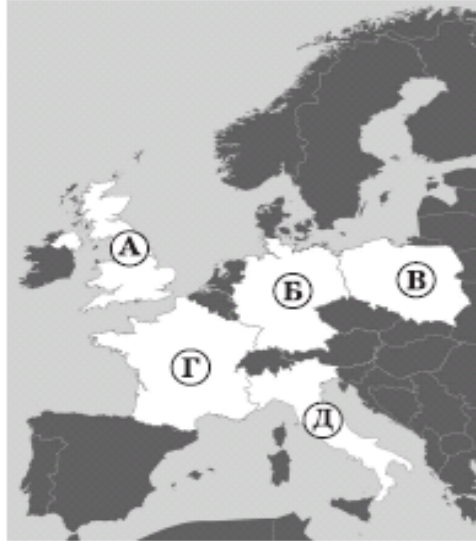
4

- 1 - Дрейка
- 2 - Ла-Манш
- 3 - Мозамбіцька
- 4 - Гібралтарська

<p>44</p>	<p>Установіть відповідність між формами рельєфу в Україні та типовими для них природними ландшафтами.</p> <p>Розточчя – широколистянолісові Приазовська височина – степові Поліська низовина – мішанолісові Середньоруська височина – лісостепові</p>
<p>45</p>	<p>Установіть відповідність між промисловими центрами та видами мінеральних ресурсів, що обумовили спеціалізацію цих центрів.</p> <p>Горлівка – кам'яне вугілля Кривий Ріг – залізна руда Моршин – мінеральна вода Надвірна – нафта</p>
<p>46</p>	<p>Установіть відповідність між продукцією хімічної промисловості та центрами її виробництва в Україні.</p> <p>хімічні волокна – Чернігів азотні добрива – Дніпродзержинськ шини – Біла Церква синтетичні барвники – Рубіжне</p>

47

Установіть відповідність між особливостями розвитку галузей паливно-енергетичного комплексу країн Європи та місцезнаходженням цих країн, що позначене буквою на картосхемі.



А – розвиток нафтової і газової промисловості на шельфі Північного моря, скорочення видобутку кам'яного вугілля; основні виробники електроенергії – ТЕС

Г – імпорт нафти, природного газу та вугілля, видобування і збагачення уранових руд; $\frac{3}{4}$ електроенергії виробляють АЕС

Б – закриття кам'яновугільних шахт, значна роль буровугільної промисловості, імпорт нафти та природного газу; найбільше електроенергії виробляють ТЕС

Д – повна залежність від імпорту енергоносіїв; ТЕС використовують нафтопродукти розміщених у портах заводів, найбільші ГЕС побудовано в Альпах.

<p>48</p>	<p>Установіть відповідність між країнами та природними рубежами, по яких проходить державний кордон України з цими державами.</p> <p>Угорщина – р. Тиса Польща – р. Західний Буг Росія – р. Сіверський Донець Молдова – р. Дністер</p>
<p>49</p>	<p>Укажіть послідовність дій, необхідних для того, щоб зорієнтуватися на місцевості за Полярною зіркою.</p> <p>1 – знайти сузір'я Великої Ведмедиці (Великого Возу), яке нагадує ківш 2 – подумки з'єднати прямою лінією дві зірки, що знаходяться на краю «ковша» 3 – продовжити уявну пряму лінію і відкласти на ній приблизно п'ять відрізків, рівних відстані між двома зірками на краю «ковша» 4 – визначити яскраву зірку в сузір'ї Малої Ведмедиці, яка вказує напрям на північ</p>
<p>50</p>	<p>Розташуйте послідовно природні комплекси Південної Америки за різноманітністю рослинного і тваринного світу від найбагатшого до найбіднішого.</p> <p>1 – сільва Амазонії 2 – савани Бразильського плоскогір'я 3 – Патагонська пустеля 4 – пустеля Атакама</p>
<p>51</p>	<p>Розташуйте області України у тій послідовності, в якій над їхньою територією за місцевим часом починається нова доба.</p> <p>1 - Луганська 2 - Полтавська 3 - Хмельницька 4 - Тернопільська</p>

52	<p>Транснаціональна компанія, що володіє підприємствами алюмінієвої промисловості, впровадила стадійну спеціалізацію виробництва. Установіть послідовність цих виробництв за стадіями технологічного процесу.</p> <p>1 – видобування бокситів у <i>Фріа</i> (Гвінея) 2 – виробництво глинозему в Миколаєві (Україна) 3 – виплавка алюмінію в Братську (Росія) 4 – виробництво алюмінієвих сплавів в <i>Уссурійську</i> (Росія)</p>															
53	<p>Розташуйте послідовно зупинки потяга, що рухається із Києва в напрямку Сімферополя, на залізничних станціях, де будуть відчеплені вагони з вантажем для розміщених поблизу підприємств.</p> <table border="1" data-bbox="347 593 1400 922"> <thead> <tr> <th></th> <th><i>Залізнична станція</i></th> <th><i>Підприємство, що отримує вантаж</i></th> </tr> </thead> <tbody> <tr> <td>1</td> <td>Миронівка</td> <td>суконна фабрика, м.Богуслав</td> </tr> <tr> <td>2</td> <td>імені Тараса Шевченка (Сміла)</td> <td>ВАТ «Черкаський автобус», м.Черкаси</td> </tr> <tr> <td>3</td> <td>Знам'янка</td> <td>ВАТ «М'ясокомбінат «Ятрань», м. Кіровоград</td> </tr> <tr> <td>4</td> <td>Красноперекопськ</td> <td>ЗАТ «Кримський титан», м. Армянськ</td> </tr> </tbody> </table>		<i>Залізнична станція</i>	<i>Підприємство, що отримує вантаж</i>	1	Миронівка	суконна фабрика, м.Богуслав	2	імені Тараса Шевченка (Сміла)	ВАТ «Черкаський автобус», м.Черкаси	3	Знам'янка	ВАТ «М'ясокомбінат «Ятрань», м. Кіровоград	4	Красноперекопськ	ЗАТ «Кримський титан», м. Армянськ
	<i>Залізнична станція</i>	<i>Підприємство, що отримує вантаж</i>														
1	Миронівка	суконна фабрика, м.Богуслав														
2	імені Тараса Шевченка (Сміла)	ВАТ «Черкаський автобус», м.Черкаси														
3	Знам'янка	ВАТ «М'ясокомбінат «Ятрань», м. Кіровоград														
4	Красноперекопськ	ЗАТ «Кримський титан», м. Армянськ														
54	<p>Визначте особливості природи Тихого океану.</p> <p>по краях Тихоокеанської літосферної плити виникли сейсмічні зони акваторія океану розміщена у всіх кліматичних поясах, крім арктичного північна частина океану тепліша за південну</p>															
55	<p>Карпатські гори</p> <p>утворилися в альпійську епоху горотворення. складені переважно осадовими гірськими породами. знаходяться в області помірно континентального клімату.</p>															

56	<p>Які чинники обумовили розміщення в Україні підприємств, на яких з імпортованих комплектуючих збирають побутову електротехніку та електроніку?</p> <p>кваліфікована робоча сила економія виробничих витрат значні обсяги внутрішнього ринку</p>
57	<p>Визначте характерні риси промисловості Російської Федерації.</p> <p>у структурі промисловості переважають галузі важкої індустрії промислове виробництво спирається на потужну сировинну базу країна – один із світових лідерів за обсягом експорту енергоносіїв</p>
58	<p>В умовному регіоні з незначним антропогенним навантаженням проектується розробка родовища руди кар'єрним способом. Із перерахованих нижче процесів визначте три найбільш імовірні, що призведуть до зміни геоекологічної ситуації цього регіону внаслідок реалізації проекту.</p> <p>зниження рівня підземних вод активізація зсувів та осипищ пилове забруднення атмосфери</p>
59	<p>На топографічній карті масштабу 1: 200 000 відстань між двома селами дорівнює 9 см. Яка відстань між цими селами на місцевості (у кілометрах)?</p> <p>18 км</p>
60	<p>Чисельність населення країни на 1 січня 2010 р. становила 100 млн осіб. Визначте, якою стала чисельність населення (у млн осіб) на 1 січня 2011 р., якщо в цій країні показники руху населення за 2010 р. були такими:</p> <p>коефіцієнт народжуваності 14 осіб на 1000 мешканців, коефіцієнт смертності 7 осіб на 1000 мешканців, сальдо міграції 300 тис. осіб.</p> <p>101 млн осіб</p>